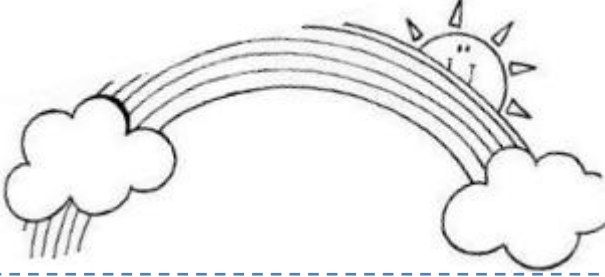


Aşağıdaki soruları okuma parçasına göre cevaplayınız.



YAĞMURLU BİR SABAH

Bu sabah uyandığımda gökyüzü kararmıştı. Çok geçmeden şiddetli bir yağmur başladı. Pencereden dışarı baktım. Komşumuz Mehmet amca bakkala doğru koşuyordu. Bakkal Mustafa ağabey de kapının önüne biriken suyu süpürüyordu. O sırada yolun karşısında Melis teyze ile köpeği Karabaş ıslanmış vaziyette apartımana doğru geliyordu. Tam o sırada içeriden annem kahvaltı hazır diye seslendi. Ben de hemen elimi yüzümü yıkayıp sofraya oturdum.

- 1) Hikayemizdeki çocuk uyandığında gökyüzü nasıldır?
- 2) O sabah hava nasıldı?
- 3) Kim bakkala doğru koşmaktaydı?
- 4) Bakkalın adı nedir?
- 5) Bakkal o sabah ne yapmaktaydı?
- 6) Melis teyzenin köpeğinin adı nedir?
- 7) Annesi içeriden çocuğa ne diye seslendi?
- 8) Çocuk kahvaltıya oturmadan önce ne yaptı?

Aşağıdaki cümlelerdeki özel isimleri yuvarlak içine alınız.

Mehtap bahçeden lale kopardı.

Gül öğretmene öğrencileri gül verdi.

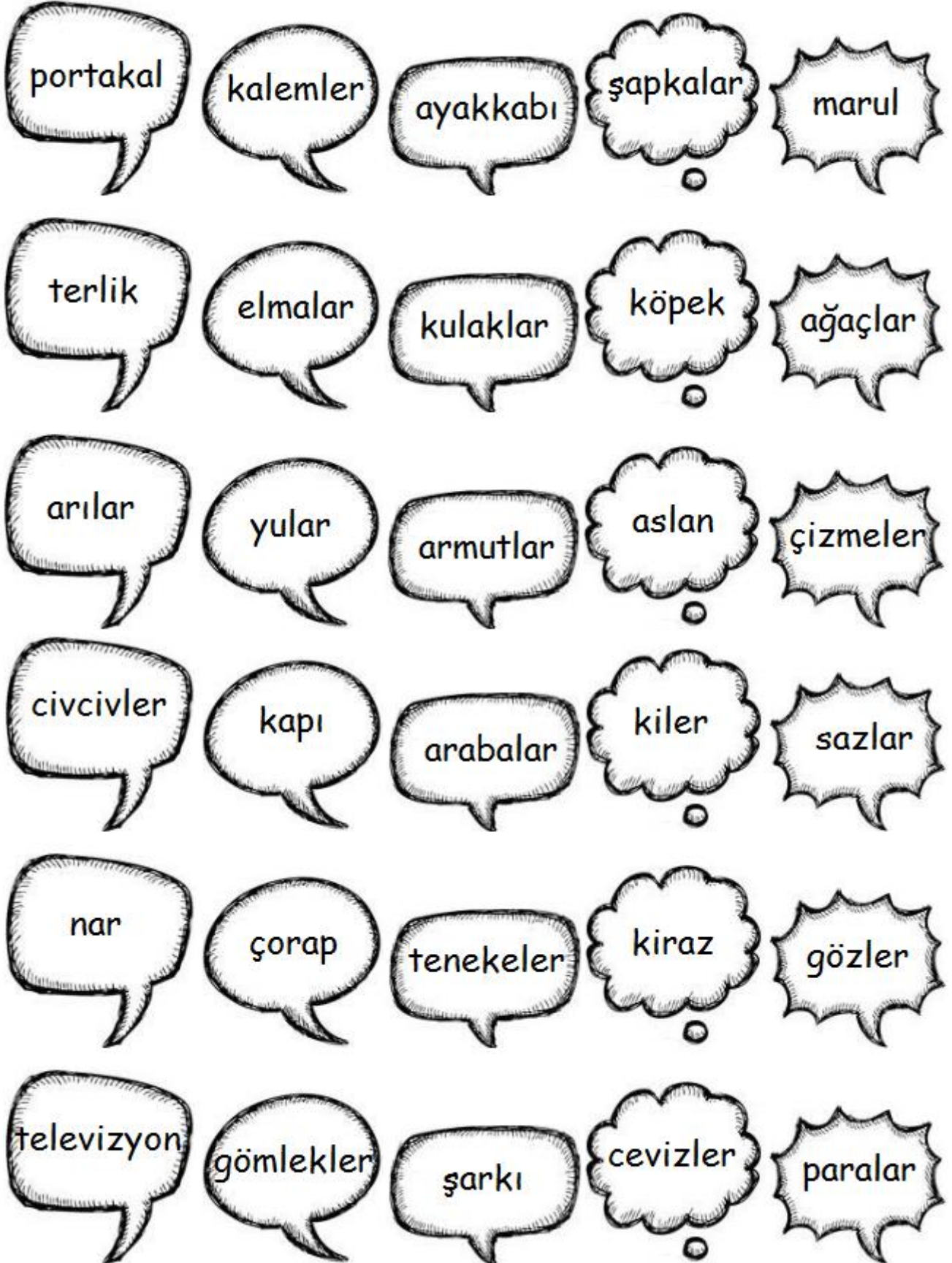
Ayşe teyzem Ankara'dan gelirken kedisi Minnoş da gelmiş.

Alican, Ömer dedesinin verdiği köpeğe Çomar adını taktı.

Salih, Almanya'dan gelen çikolatayı arkadaşı Elif'e verdi.

Ahmet, Barbaros İlkokulu'na gidiyor.

Aşağıdaki tekil isimleri sarıya çoğul isimleri maviye boyayınız.



Aşağıdaki kelimelerin tekil olanların çoğullarını, çoğul olanların tekillerini yazın.

Erik

Çilek

Pırasa

Çekirdek

Kutu

Çay

Kiraz

Ceviz

Çiçek

Karpuz

Domates

Soğan

Sarımsak

Turp

Şeftali

Kavun

Kuşlar

Keçiler

Develer

Kartallar

Serçeler

Koyunlar

Atlar

Goriller

Tavuklar

Kirpiler

Kediler

Köpekler

İnekler

Ayılar

Zürafalar

Aslanlar

Busabahkahvaltıda peynirekmek yedim.

Türkiye'nin başkenti Ankara'dır.

Özel isimler büyük harfile başlar.

Ahmet portakal suyu içmeyi çok seviyor.

Bayramda büyüklerimizin ellerinden öperiz.


Yarın sabaha ilce pikniğe gideceğiz.

Karpuz yaz mevsiminde yenir.

Meyvelerden çok kirazı seviyorum.

Çoban Ahmet koyunları otlatmayı götürdü.

Aşağıdaki resimlerdeki varlıkların içinde geçtiği birer tane cümle kurunuz.



Aşağıdaki eşyaların kaç ataş olduklarını altına yazınız.



.....



.....



.....



.....



.....




.....



.....



.....



.....

Aşağıdaki soruları tabloya göre cevaplayınız.

Satılan Toplar	
Futbol topu	10
Basketbol topu	8
Voleybol topu	4
Tenis topu	5

En çok satılan topdur.
En az satılan topdur.
Futbol ile voleybol topu toplamı dir.
En çok ve ez az satılan toplar toplamıdır.
En çok satılan iki top türü toplamıdır.

Bahçedeki ağaçlar	
Elma ağacı	6
Armut ağacı	8
Kiraz ağacı	12
Şeftali ağacı	10

En çok hangi ağaç vardır?
En az hangi ağaç vardır?
Elma ve kiraz ağacı toplam kaç tanedir?
Kiraz ağacı armuttan kaç fazladır?
Kiraz ve armut ağacı toplamı kaç tanedir?

Sevilen dersler	
Türkçe	7
Matematik	11
Oyun	12
Müzik	10

En sevilen ders hangisidir?
En az sevilen ders hangisidir?
Müzik dersi Türkçe'den kaç fazladır?
Türkçe ve matematik sevenler toplamı
Matematik dersini kaç kişi seviyor?


Sevilen hayvanlar	
Ördek	4
Kedi	13
Tavşan	9
Köpek	11
Muhabbet kuşu	7

En sevilen hayvan hangisidir?
En az sevilen hayvan hangisidir?
Hangi hayvanı 11 kişi seviyor?
Kaç kişi kedi sevmektedir?
Köpek ve ördek seven toplamı kaçtır?
Tavşan ve kuş seven toplamı kaçtır?

Okunan kitap sayıları	
1/A sınıfı	11
1/B sınıfı	13
1/C sınıfı	9
1/D sınıfı	15
1/E sınıfı	5

En çok kitap okuyan sınıf hangisidir?
En az kitap okuyan sınıf hangisidir?
1/B sınıfı kaç kitap okumuştur?
1/D ve 1/E sınıfı toplam kaç kitap okumuş?.....
Hangi sınıflar 10 dan az kitap okumuş?.....
1/A ve 1/B sınıfı toplam kaç kitap okumuş?.....

Ürünleri kendi renklerine boyayıp, aşağıdaki ürünlere göre tablodaki bilgileri doldurunuz.



Ürünler

Domates

Biber

Mısır

Çilek

Ürünler

Nar

Kabak

Üzüm

Portakal

Ürünler

Çilek

Üzüm

Nar

Mısır

Ürünler

Kabak

Biber

Domates

Portakal

Aşağıdaki problemleri çözünüz.

18 sayısının 13 eksiğinin, 13 fazlası kaç eder?

32 sayısının 13 fazlasının, 14 eksiği kaç eder?

33 sayısının 14 fazlasının, 7 eksiği kaç eder?

20 sayısının 17 fazlasının, 15 eksiği kaç eder?

29 sayısının 17 eksiğinin, 10 fazlası kaç eder?

27 sayısının 12 fazlasının, 13 eksiği kaç eder?


33 sayısının 15 fazlasının, 17 eksiği kaç eder?

29 sayısının 12 eksiğinin, 11 fazlası kaç eder?

12 sayısının 16 fazlasının, 15 eksiği kaç eder?

35 sayısının 14 fazlasının 16 eksiği kaç eder?

Bir çiftlikteki hayvan sayıları verilmiştir. Soruları buna göre cevaplayınız.



			Kavun
+			Karpuz

			Şeftali
-			Portakal

			Şeftali
+			Koyun

			Biber
-			Kavun

			Biber
+			Portakal

			Kavun
-			Armut




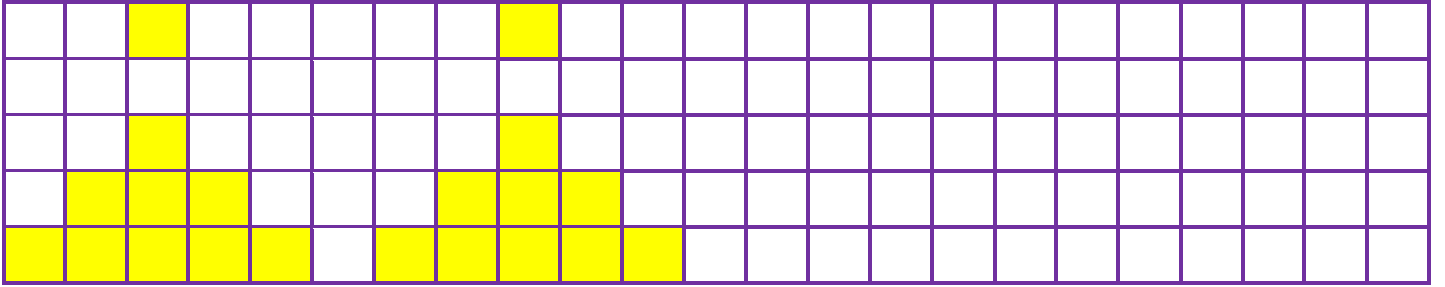

			Şeftali
+			Kavun

			Biber
-			Portakal

			Portakal
+			Armut

			Şeftali
-			Armut

Aşağıdaki örüntü süslemesini uygun şekilde devam ettiriniz.



Aşağıdaki ölçü birimlerini altına yazınız.

