


DİKKAT GELİŐTİRME KILAVUZU

Egebilim Yayınları 2



egeBİLİM KOLEJİ

www.egebilimkoleji.com

**EGEBİLİM KOLEJİ
YAYINLARI**

YAYIN SIRASI: 2

İSTANBUL, 2018

YAYINA HAZIRLAYAN

EGE BİLİM EĞİTİM A.Ş.

YÖNETİM YERİ

EGE BİLİM KOLEJİ KARTAL KAMPÜSÜ
Cumhuriyet Mh. Yakacık D-100 Kuzey Yanyol
Kartal / İstanbul T. 0216 452 6 452
www.egebilimkoleji.com

BASKI

Ege Reklam ve Basım Sanatları San. Tic. Ltd. Şti.
Esatpaşa Mah. Ziyapaşa Cad. No: 4 / 1 347047
Ataşehir - İSTANBUL Tel: (0216) 470 44 70
www.egebasim.com

ÇOCUĞUNUZA KİTAP OKUTMANIN 10 YOLU

- 1- Çocuklar inanılmaz gözlem yeteneğine sahiptir. Kitap okuması için öncelikle sizin de kitap okumanız gerekmektedir.
- 2- Çocuklarımız inatçıdır. Onları zorlarsanız eğer bu ters teper bunun yerine ailecek kitap okumak için belirli bir zaman belirlemeniz ve okumak istediği şeyler ıvrı zıvrı bile olsa onu serbest bırakmanız daha doğru olacaktır.
- 3- Çocuklarınızı bir dergiye üye yapabilir ve onun adına gelecek bir postanın ve birey olmanın keyfini ona yaşatabilirsiniz.
- 4- Çocuklarımız ilgi çekmeyi severler, bunun için size bir şeyler okumasına izin vermelisiniz.
- 5- Çocuğunuz kaç yaşında olursa olsun ona yüksek sesle kitap okumaktan çekinmemeli, bunun onun için bir keyif haline dönmesine izin vermelisiniz. Bu durum zaman içinde onu kitap okumaya özendirecektir.
- 6- Çocuklar için alışveriş bir keyiftir. Düzenli olarak ziyaret ettiğiniz bir kitapeviniz olsun öncelikle ilgilenirse de aldırmanın küçük oyunlarla (gizlice kitap yerlerini değiştirmek gibi) onunla eğlenin.
- 7- Çocuklarınız harçlık alıyorsa, harçlığa küçük bir kitap fonu ekleyin.
- 8- Çocuklar kendi fikirlerine önem verildiğini hissetmeyi severler ondan kitap tavsiyesi isteyin, kitap üzerine sohbet edin.
- 9- Kendisine ait kitaplara etiket ya da sevdiği bir kahramanın resmini yapıştırarak sahip olma duygusunu tatmin edebilirsiniz.
- 10- Beraber bir kitap günlüğü tutabilir, okuduğu kitap ve yazarları buna yazıp onlara yıldız vererek puanlandırma yapmasını sağlayabilirsiniz. Bu sistem onu daha fazla okumak ve günlüğünü doldurmak için isteklendirecektir



ÖNSÖZ

Son zamanlarda tüm çocuklarımız teknolojinin esiri oldu. Yalnızca televizyonun dersek eksik söylemiş oluruz. Televizyonla birlikte bilgisayar, internet, cep telefonu vs... Belki de daha bebekken çocuğumuzu televizyona emanet ettik. Zira anne-babalar olarak çocuğu avutmak için olsun, beslenme saatlerinde olsun, televizyonda bir çizgi film açarak sorunu çözmüşüzdür. Birçoğumuz bu taktiği uygulamışsızdır. Şimdiki anne babalar daha da şanslı ya da bir başka açıdan bakarak şimdiki çocuklar daha da şanssız!.. Şimdi sadece televizyonlardaki çizgi filmler kullanılmıyor çocukları avutmak için. Cep telefonları başta olmak üzere tabletler, bilgisayarlar...

Kuşkusuzdur ki tüm bunların çocuğumuza birtakım katkıları vardır. Ama ya zararları? Sanırım birçok anne baba bunun muhasebesini yapmadan işin kolayına kaçıyor çocuk yetiştirmede. Özellikle de dikkat yönünden son derece büyük yaralar açıyoruz çocuklarımızda. İşte çocuklarımızdaki bu yaralara merhem olmak, dikkatlerini geliştirerek odaklanma sürelerini arttırmak amacıyla bu kitap hazırlanmıştır. 100 egzersizden oluşan kitabımız, anne baba ya da öğretmenin gözetiminde uygulanırsa çocuklarımızın dikkati daha güçlenecek, ders çalışmadaki odaklanma süreleri artacaktır.


Unutmayalım ki ders çalışmanın birinci koşulu istektir. Dikkat dağınıklığı yaşayan çocuk bu isteği yüreğinde duyamaz. Bu istek bir şekilde oluşturulsa bile kısa sürer, bir süre sonra çocuk yine başka şeylere dalar ya da ders çalışır gözükür ama başka şeyler düşünür. Oysa dikkat sorunu olmayan çocuklar, büyük bir istekle ders çalışmaya başlar ve yine aynı heyecanla sonuna kadar çalışmasını sürdürür.



EGZERSİZ 1

Aşağıda verilen çam ormanında kaç tane çam vardır?


A	B	C	D
29	30	31	32



EGZERSİZ 2

Aşağıdaki resimde kaç tane kare vardır?

A) 29 B) 30 C) 31 D) 32



EGZERSİZ 3

Aşağıdaki tabloda eksik olan sayıyı bulunuz.

60		64		18		3		61
	10		22		7		16	
13		68		31		28		24
	35		66		44		67	
21		43		50		48		33
	27		57		54		51	
52		59		1		62		42
	47		38		45		11	
32		63		5		25		49
	20		56		14		39	
29		26		53		58		12
	6		36		46		2	
4		9		41		55		8
	15		23		19		30	
65		17		69		37		40



EGZERSİZ 5

Aşağıdaki bölümlerde her defasında herhangi bir harfi değiştirerek anlamlı yeni bir kelime türetiniz.

	A	Z	İ	M
1				
2				
3				
4				
5				
6				
7				
8				
9				
10				
11				
12				
13				
14				
15				
16				
17				
18				
19				
20				
21				
22				
23				
24				
25				



EGZERSİZ 6

Aşağıdaki bölümlerde her defasında herhangi bir harfi değiştirerek anlamlı yeni bir kelime türetiniz.

	H	A	N
1			
2			
3			
4			
5			
6			
7			
8			
9			
10			
11			
12			
13			
14			
15			
16			
17			
18			
19			
20			
21			
22			
23			
24			
25			



EGZERSİZ 7



Aşağıdaki kelimelerin ilk heceleriyle son hecelerini birleştiriniz.

İlk Heceler	Son Heceler
politi	lans
katali	hane
kalaba	tuk
balı	yet
Hasan	kale
apart	şah
cumhuri	çülük
kava	dan
padi	noz
Çanak	beyli
kür	ka
İstan	kesir
gözlük	tik
uyur	man
sala	kal
tele	man
bilgi	gezer
eşof	vizyon
porta	talık
Osma	lan
ambu	lık
kol	sayar
misafir	bul
Alpars	niye



EGZERSİZ 8

Evlerinin yolunu kaybeden çocukların evlerine ulaşmaları için 1'den 100'e kadar sayıları sırasıyla takip etmeleri gerekiyor. Onlara çizgilerinizle yardımcı olunuz.

			3	4	5	82	83	84	*
			2	7	6	81	80	85	86
			1	8	73	74	79	88	87
19	18	13	12	9	72	75	78	89	90
20	17	14	11	10	71	76	77	92	91
21	16	15	28	29	70	65	64	93	94
22	25	26	27	30	69	66	63	96	95
23	24	37	36	31	68	67	62	97	98
42	41	38	35	32	59	60	61	100	99
43	40	39	34	33	58	57			
44	45	48	49	52	53	56			
*	46	47	50	51	54	55			

EGZERSİZ 9

Aşağıda verilen harfler arasında “y” harfini daire içine alarak “y” harfinden kaç tane olduğunu bulunuz.

d i k y f z u c m y v
d f p k y v r p f o y
o f d b v k s v x z a
s w y t p y o k d f v
m z m ö ı y h n s f i y
ı v m b p y f y x p f
o y o f d b v l x ı y
v p d f d g s v x z a
s w y ü y d k k m y f
k y b p y f y x p f o
m y v o ı k v s ö d k
m y f k t r e h i p f o
y o f d b v k s v x z
a s w y t y d k k m y
f k y b p y f y x p f o



EGZERSİZ 11

Aşağıdaki oyun tahtasının toplamları 13 olan kaç tane sayı kümelerini bulunuz.

8	+	4	+	1	+	5
+	3	+	2	+	6	+
5	+	2	+	4	+	3
+	9	+	4	+	2	+
6	+	4	+	3	+	5
+	3	+	5	+	7	+
7	+	3	+	3	+	2
+	9	+	2	+	2	+
4	+	8	+	1	+	9
+	1	+	7	+	5	+
3	+	5	+	6	+	2

EGZERSİZ 12

Aşağıdaki işlemleri + veya - işaretlerini kullanarak en sonda yer alan sonucu bulunuz.

8	+ veya -	3	+ veya -	2	=	7
9	+ veya -	6	+ veya -	1	=	2
6	+ veya -	3	+ veya -	7	=	2
5	+ veya -	4	+ veya -	2	=	3
10	+ veya -	9	+ veya -	6	=	7
14	+ veya -	6	+ veya -	4	=	4
8	+ veya -	4	+ veya -	3	=	9
35	+ veya -	12	+ veya -	15	=	38
88	+ veya -	44	+ veya -	30	=	74
63	+ veya -	19	+ veya -	28	=	16



EGZERSİZ 13

Aşağıdaki cümlelerde bazı ilimizin adları karışık olarak verilmiştir. Bakalım bu illerimizin adlarını bulabilecek misiniz?

BÖLGİN	
BİSTİL	
LEİUCNT	
TRANİV	
ARKANA	
İZLDENİ	
İRSEMN	
İLBCEİK	
TZONRAB	
ATSMUKOAN	
NİOSYEMA	
ESHŞEKRİLİ	
ĞTEDAKİR	
İSMNAA	
İREZ	

EGZERSİZ 14

Aşağıdaki kelimelerin çağrıştırdığı şehirleri karşlarına yazınız.

BALIKLI GÖL	
MEVLANA	
ANITKABİR	
ERCİYES	
19 MAYIS	
NEMRUT DAĞI	
BOĞAZİÇİ	
ULUDAĞ	
FISTIK	
DONDURMA	



EGZERSİZ 15

Aşağıdaki tabloda iki kez yazılan iki sayıyı bulunuz.

27		36		49		38		50
	34		54		20		60	
7		8		6		5		12
	14		26		27		2	
3		33		23		17		15
	24		19		9		41	
28		16		39		35		1
	42		45		21		46	
37		47		52		44		29
	4		30		22		53	
18		55		59		56		11
	51		43		25		58	
31		10		48		61		32
	57		46		13		40	



EGZERSİZ 16

Aşağıda karışık olarak verilmiş harfler içerisinde “göz” ve “kar” kelimesini daire içerisinde alıp kaç tane olduğunu bulunuz.

Göz

Kar

asdjaafbarafnkarfjkskksfgözkdgkarkgkdarmgkdk
 hmnbcxvbnmvyarbnvbcvbvkarhxjhfhjdjnnözckfg
 özcaslgözgksogügişslgovgozertyhgvgözsdfrevg
 öçzdfjkhjfhfhkhdjdsjkhdskarjhdshsgözsjkdhskar
 sdyözjdhfjhfhgözhsksdkarbhdjdjdhgösdjdhdkarşil
 kolçömnjkuyhgtrfdesazmckarhdjhdshkjdhshkhgöz
 jdgdgkdjgdgjkhjkhkssfçömyarbvfcfghgökjdbdjd
 bfhfdgöhdjddjardgözhdıjdjfkjfsjkhkarhkjshhyöss
 hajkagözshshgdgakarshjkhjdjkdshsgözhdajkgjhkj
 dhldjksldlajgözjfgjffjkdhsfjkhjfkjkarshjkhsgözkarlks
 djsdlsdkjhadldjgdsjkgdhsajkhgözjxhshdjkgözjhjks
 hjhsjkhskarnkjdgkldfjksdjsklskarshfsdjhdjshdsjg
 özhakdjkaökjdshdlasdjkdardhsjldarbvfcfghgökjdbj
 dbfhfdgöhdjddjardgözhdıdarbnvbcvbvkarhxjhj
 hfjhdjnnözckfgökaslgözgksogügişslgovüğpolşikıujh
 ytgfgözbgtrfdkarçşpolkjuıhytgfredsargözmkjuyhg
 bvnmkarhkjnkjkdarkjnfjlksgözjhhgahakarljksjahd
 adjdksgözajkadjsajhldashkarsdjksjshdlaahdkhakj
 karahgözjhkdasdkarjhsdkjksjshfajdjksjsgözskdajk
 ddsjdsjdgdsjgkaskarödbjaskarnkarertfdmaredsxza
 sgözbnjnmklözşpolkiusdfybgtgjhygöziğüpşlkgart



EGZERSİZ 17

Aşağıda cümlelerde “Buldun MU Şu herifi?” cümlesinde büyük ve siyah harflerle gösterildiği gibi ulama yoluyla bir ilimizin adı gizlenmiştir. Acaba bu illerimiz hangileridir?

- 1) Teyzemin Ömer’i zekice cevaplar veriyordu yine.....
- 2) Bozkır şehirleri kışın çok soğuk günler geçirirler.
- 3) Adam, odada nasıl bir iş yapacağız? diye sordu.
- 4) Tamer sinemaya gitmek istemiyormuş bu akşam.
- 5) Tabur sabahleyin erkenden eğitime başladılar.
- 6) Geçen hafta Ergenekon yakınlarında kaza olmuş.
- 7) Çocuklar topu bir tarafı kırık kalenin tam ortasından filelere göndermeyi başarmışlardı.
- 8) Balık pişirirken tava niçin yağlanmalıdır?
- 9) Ali Nuri ve Osman İsa az rastlanan isimlerdendir.
- 10) Bit lise öğrencilerinde pek görünmez.
- 11) Bizim çanak kale tarafına bakıyor yaylada.....
- 12) Yazıyı bugün sanırsam sunacaklardı valiye.....
- 13) Ne bulursa taşır nakliyesi hiç boş durmaz onun.....
- 14) Kubat Manisa yöresinden bir türkü söyledi.....
- 15) Taşları tuhaf tuhaf yontarak şekil veriyordu.....



EGZERSİZ 18

Aşağıda verilen harfler arasında “a” harfini daire içine alarak “a” harfinden kaç tane olduğunu bulunuz.

a d s v a b r t r n s a u i d s
 e b r d e d h a a y d n d h
 n e a p v k r y a a d s v a b r t r
 n s a u i d s e b r d e d h a a t y
 d n d h n e a p v k r y a v o k a i
 m d i a d o g f a m k d b t r a s
 u a v o k a i m d i a d o g f a m
 k d b t v a b r t r n s a u i d s
 e b r d v y l ç d h a a y d n d h n
 e a p v k r s a a z d h a a y d n

EGZERSİZ 19

Aşağıda verilmiş olan “eau” kutucuklarından kaç tane olduğunu bulunuz.

eau	eau	eua	ave	eau	aaü
eau	aeu	eau	uea	cvb	eav
aeu	uea	aaü	aeü	eau	eua
eaü	eau	aaü	aue	eac	ean
aev	avu	eav	eac	aaü	eau
eaü	aeu	eeu	aeu	aeu	aze
uae	eau	eua	eaü	aua	eau
eeu	eav	aeu	uae	oue	ueo
sae	eau	eeu	oea	eeu	eac
eaü	eao	eau	aev	eaü	cae
eas	eao	eau	oeu	eau	ueo
uea	uea	oeu	eau	eau	eav



EGZERSİZ 20

Aşağıdaki kelime çiftlerinden eş ya da zıt anlam ilişkisi taşımayan kaç sözcük vardır?

A) 3

B) 4

C) 5

D) 6

İYİ-KÖTÜ

UZUN-KISA

KALIN-İNCE

HISIM-AKRABA

YAZIM-KILAVUZ

GÜZEL-ÇİRKİN

ANI-HATİRA

GENİŞ-DAR

BAKIM-ONARIM

CAM-ÇERÇEVE

YAŞLI-GENÇ

ÖYKÜ-HİKAYE

YÜKSEK-ALÇAK

ZENGİN-FAKİR

KİTAP-YAPRAK

EGZERSİZ 21

Aşağıdaki her satırda boş bırakılan yerlere öyle iki harf yazın ki tüm kelimeler anlamlı olsun.

1	__ MİK	KAD__	SED__	B__	K__ Lİ
2	__ KARA	HAS__	ORM__	K__ LI	K__ ADA
3	S__ Lİ	HEV__	__ ARET	__ NAF	KAF__
4	__ UR	TUR__	__ AYİP	A__ RE	__ NDAN
5	DAK__ A	D__ EN	KOM__	Ş__ E	D__ KAT
6	OKU__	__ DEM	__ RUL	__ KAS	OS__ N
7	BERK__	__ NA	__ DAN	__ AK	KOL__
8	ALL__	GÜN__	SAB__	__ İRET	S__ TE
9	AN__	__ NE	__ FES	__ ŞELİ	__ FRET
10	KA__	__ RASA	__ NAR	__ SIRIK	YA__



EGZERSİZ 22

Aşağıda karşılıklı olarak yazılan sözcüklerden ve söz gruplarından aynı olanların arasına “A”, farklı olanların arasına “F” yazınız.

4.....	4
2a.....	2a
Abx.....	aby
2c.....	20
35.....	53
46.....	64
71.....	71
Bg.....	gb
d.....	b
96.....	69
79g.....	79g
2X4A.....	2X4A
Pdb.....	Pbd



EGZERSİZ 23

Aşağıda karışık olarak verilen sayıları 1'den 50'ye kadar sırasıyla işaretleyiniz.

20 32 46 25

1 31 5 37 40

30 11 47 9 10

22 19 26

49 17 34

6 47 6 23

15 29 27

7 24 41 44

13 33 18 36

35 43 28

2 48 16 12

50 14 38 39

45 3 8



EGZERSİZ 25

Aşağıdaki tablodan soldan sağa, sağdan sola, aşağıdan yukarı ya da yukarıdan aşağıya doğru anlamlı meyve ve sebze adları gizlenmiştir. Bakalım bunlardan kaç tanesini bulabileceksiniz. Bulduğunuz meyve ve sebze adlarını aşağıya yazınız.

A	D	A	N	A	P	I	R	A	S	A	K	H	M	V	K	A	V	U	N
S	E	D	İ	R	K	O	L	O	E	N	Ş	E	F	T	T	A	L	İ	A
A	M	A	Y	N	O	K	I	S	P	A	N	A	K	R	S	K	S	R	R
L	İ	P	E	R	Ç	İ	L	E	K	K	A	R	P	U	Z	E	L	K	G
A	R	A	P	E	I	R	A	L	L	İ	M	P	T	T	U	R	A	E	R
T	A	Z	Z	B	S	E	K	M	A	R	L	A	N	G	T	E	H	N	E
A	C	A	B	İ	P	B	A	A	H	A	O	T	A	Y	B	V	A	G	Y
L	İ	R	A	B	A	A	T	R	İ	Z	D	L	M	H	K	İ	N	İ	F
I	T	I	R	A	N	P	M	U	Z	T	A	I	A	N	U	Z	A	N	U
K	İ	T	A	P	A	D	O	L	M	A	S	C	Z	M	Ü	Z	Ü	A	R
T	A	I	E	F	K	E	P	İ	L	A	V	A	C	İ	N	P	R	R	T
F	C	P	D	O	M	A	T	E	S	D	F	N	V	B	N	K	İ	R	E

Meyve Adları

Sebze Adları



EGZERSİZ 26

Aşağıdaki cümlelerde bazı ünlü kişilerin adları karışık olarak verilmiştir. Bakalım bu ünlü isimleri bulabilecek misiniz?

LLAHADBU LGÜ
TEHMEM KİAF YEORS
TAREŞ İRUN İNGLTKÜ
PEREC PYYİAT ANĞEROD
FİAR İHTNA SYAA

EGZERSİZ 27

Aşağıda verilen harflerle rakamlar arasında bir ilişki vardır. Bu ilişkiye göre boş bırakılan yerleri doldurunuz.

A	Ç	F	H	K	N	Ö	M
1	4						
P	S	B	G	L	M	T	Z
							29



EGZERSİZ 28

Aşağıda her satırda yer alan kelimelerden farklı olanları işaretleyiniz.

Veysel	Ahmet	Bengisu	Zeki	Ramazan
Domates	Patlıcan	Biber	Salatalık	Elma
Portakal	Patates	Limon	Mandalina	Greyfurt
Antalya	Siirt	Bingöl	Van	Muş
Kravat	Pantolon	Gömlek	Ceket	Etek
Çam	Ardıç	Sedir	Çınar	Fasulye
Sandal	Otomobil	Otobüs	Kamyon	Bisiklet
Faks	Buzdolabı	Ütü	Fırın	Mikser
Akdeniz	Van Gölü	Ege	Karadeniz	Marmara
Fıstık	Fındık	Erik	Çekirdek	Leblebi
Zeytin	Bal	Reçel	Peynir	Makarna



EGZERSİZ 29

Aşağıdaki hikayede geçen “armut, kaplan, tavşan ve orman” kelimelerinden kaçar tane olduğunu bulunuz.

Armut:	Kaplan:	Tavşan:	Orman:
--------	---------	---------	--------

Bir gün korkunç bir kuraklık baş gösterdi. O yıl hiç yağmur yağmadı ve ekinler zarar gördü. Fazla yiyecek ve içecek olmadığı için tüm hayvanlar aç ve susuzdu. Nasıl olmuşsa olmuş, bir tarla ve bunun ortasında büyük bir armut ağacı kalmıştı. Ağaçsa, görebileceğiniz en sulu ve lezzetli armutlarla doluydu. Kocaman ve sarı renkli armutlar sanki toplanmayı bekliyordu. Ama ne yazık ki ağacın tam dibinde acımasız ve cimri bir kaplan vardı. Kaplan açgözlü ve bencildi ve kimseyi ağacın yanına yaklaştırmıyordu. Bütün gün armut ağacının gölgesinde yatar ve yaklaşan herkese kükrer dururdu. "Ağacımdan uzak durun yoksa hepinizi yerim!" derdi. Bir gün bir tavşan geldi ve kaplan hakkında anlatılanları duydu. Diğer hayvanlar "Tavşan, ne yapmalıyız?" diye çaresizlikle ağlıyorlardı. "Kapan öyle cimri ki bizimle o sulu armutları paylaşmıyor! Bizse öyle aç ve susuzuz ki!"

Tavşan düşündü ve bir plan yaptı. "Hepiniz buraya gelin, yaklaşın iyice. Bir planım var. Şimdi size ne yapmanız gerektiğini söyleyeceğim." Ertesi sabah tüm hayvanlar kaplanın uyuduğu tarlanın yakınındaki ormanda toplandılar. Kaplumbağa, fil, öküz ve eşek gibi toprak üstünde yaşayan hayvanlar içi boş kütüklerin yanında durdular. Maymun ve kuş gibi ağaçlarda yaşayan hayvanlarsa ağaç dallarına tüneyip tavşanın gelmesini beklediler. En sonunda tavşan göründü. Elinde kalın bir ip vardı. Büyük bir gürültüyle



tarlaya koştı ve "Aman tanrım aman tanrım!" diyerek bağırmağa başladı. Tek gözünü açan kaplan uykulu bir halde kükredi: "Niye bu kadar gürültü yapıyorsun tavşan? Uyuduğumu görmüyor musun?" "Kaplan! Buradan kaçmalısın! Çok büyük bir rüzgar geliyor ve dünyadaki herkesi yok edecek!" Tam o anda ormanda saklanan hayvanlar büyük bir gürültü çıkardılar.


Kartal, leylek, baykuş ve diğer tüm kuşlar kanatlarını çırpmağa başladılar. Böylece yapraklar sallanıp titremeye başladı. Fil, öküz, su samuru, timsah ve yerdeki diğer tüm hayvanlar içi boş kütüklere ve ağaçlara vurmaya başladılar. Ve etrafa yayılıp sanki dünyanın sonu gelmişçesine gürültü yapmağa devam ettiler. Kaplan çok korkmuştu. "Ne yapmalıyım? Ne yapmalıyım?" diye bağırmağa başladı. "Kaçmalısın" dedi tavşan. "Şimdi sana yardım edemem. Gidip diğer hayvanları bu ipe bağlamalıyım ki; dünyadan uçup gitmesinler!" "Beni bağlamalısın!" diye emretti kaplan. Tavşansa başını sallayıp, "Fakat gidip diğer hayvanlara yardım etmeliyim yoksa uçup yok olacaklar! Sen büyük ve güçlüsün ve kendi başına kaçıp yaşama şansın daha büyük!" "Hayır!" diye kükredi kaplan. "Beni şimdi bağlamalısın!" Tavşan "Peki" diye iç geçirdi. "Seni şimdi bağlayacağım."

Böylece kaplanı tarlanın ucundaki bir ağaca bağladı. İpi oldukça sıkı bağlamasına rağmen kaplan bağdı: "Daha sıkı, daha sıkı bağla! Dünya üzerinden uçup gitmek istemiyorum!" İş bittiğinde tavşan ormanda bekleyen diğer hayvanları çağırırdı. "Buraya bakın" diye yüksek sesle konuştu. "Bu sulu armutları paylaşmak yerine kendine saklayan kaplana bakın. Yiyecekler herkesin yemesi için vardır. Kimsenin bencil olup herkesin hakkı olanı sadece kendine saklamaya hakkı yoktur."

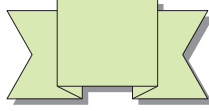


EGZERSİZ 30

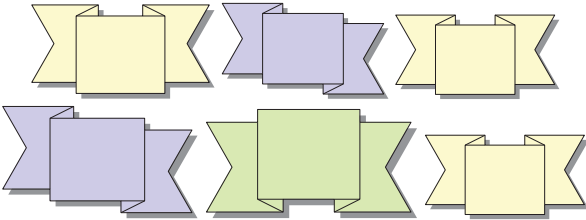
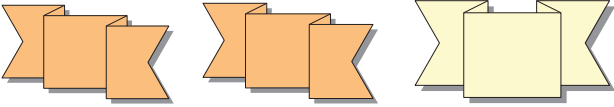
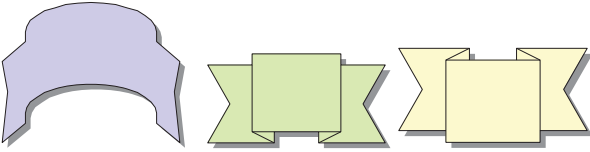
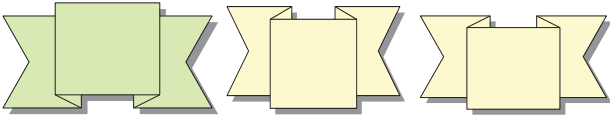
Aşağıda verilen şekillerden kaç tanesinin benzeri yoktur?



EGZERSİZ 31



Yukarıda verilen şekilden aşağıda kaç tane vardır?



EGZERSİZ 32

Aşağıdaki her bir kelimeyi okuyun ve hemen ardından okuduğunuz kelimeyi içerisinde bulunan en az 5 kelimedenden oluşan bir cümle oluşturunuz.

Örnek: “Kitap” – Kitaplar olmasaydı birçok bilgiyi öğrenmemiz mümkün olamayacaktı.

Sakız:

Yağmur:

Tost:

Limon:

Dere:

Kelebek:

Patlıcan:

Zeytin:

Akbaba:

Yayla:

Çocuk:

Pamuk:

Bahar:

Hırsız:

Piknik:

Kulak:

Diş:

Sağlık:

Terbiye:

Sevgi:

Otel:

Cami:



EGZERSİZ 33

Aşağıdaki resimlerden üstteki resimle aynı olanı bulunuz.

1)




























2)



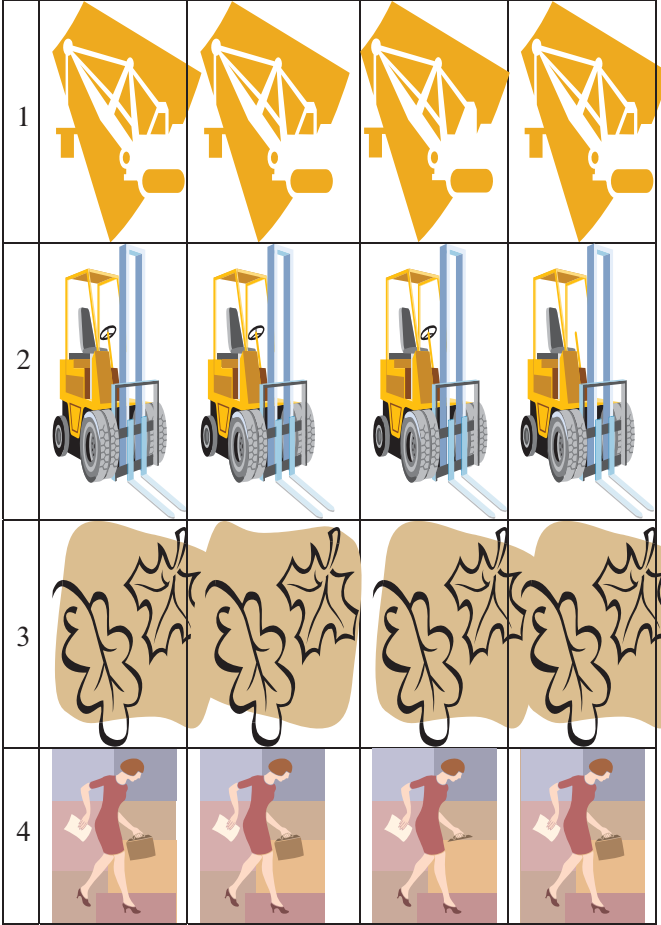
EGZERSİZ 34

Aşağıdaki resimlerden baştaki resimden farklı olanı bulunuz.

1) 	A 	B 	C 	D 
2) 	A 	B 	C 	D 
3) 	A 	B 	C 	D 
4) 	A 	B 	C 	D 
5) 	A 	B 	C 	D 

EGZERSİZ 35

Aşağıdaki resimlerden farklı olanları bulunuz.




EGZERSİZ 36

Aşağıdaki resmin zihninizde yaptığı çağrışımlarla ilgili olarak en az 15 cümleden oluşan bir öykü yazınız.



EGZERSİZ 37

Aşağıdaki resimlerden hangisi sporla ilgili değildir?



EGZERSİZ 39

Aşağıdaki resimlerden üstteki resimden farklı olanı bulunuz.

1)



A)



B)



C)



D)



2)



A)



B)



C)



D)



EGZERSİZ 40

Aşağıdaki tabloda yer alan sayılar üçer defa tekrar edilmiştir. Yalnızca bir sayı dört defa yazılmıştır. Dört defa tekrar edilen sayıyı bulunuz.

10	89	66	42	80
77	24	44	28	48
42	75	88	65	89
13	90	59	86	93
88	22	28	57	99
46	93	88	33	79
68	68	65	99	92
40	12	46	30	10
92	27	55	99	11
55	11	46	51	30
59	33	27	11	66
75	86	13	68	90
27	66	51	93	13
80	42	80	44	57
77	30	48	12	79
65	68	33	44	28
12	51	75	22	77
48	22	24	40	24
40	59	55	57	10
79	86	90	89	92

EGZERSİZ 41

Aşağıdaki tabloda yer alan kelime çiftlerinden farklı olan 3 (üç) tanesini bulunuz.

ÇAM - MAÇ	EV - VE
AYAK - KAYA	ALO - OLA
TAM - MAT	ARSA - TARLA
YER - TER	BEYAZ - SİYAH
FİLE - ELİF	YOL - LOY



EGZERSİZ 42

Aşağıda verilen bölümler ortadaki çizgiden katlandığında üst üste gelecek aynı şekillerden kaç tane olduğunu bulunuz.



EGZERSİZ 43

Aşağıdaki tablolara 10'ar tane "sarı" sıfatıyla ifade edilebilecek kelimeler ve "sarı" sıfatıyla ifade edilemeyecek kelimeler yazınız.

"Sarı" sıfat alabilen kelimeler
1-
2-
3-
4-
5-
6-
7-
8-
9-
10-

"Sarı" sıfat alamayan kelimeler
1-
2-
3-
4-
5-
6-
7-
8-
9-
10-



EGZERSİZ 44

Aşağıdaki tabloda iki sütun halinde üstteki sembollerin sayısal değeri aşağıda verilmiştir. Sırasıyla sayıların altına eşleştirildikleri sembolleri yapınız.

#	£	€	{	x
0	3	6	1	7
\$	>	+	!	?
5	2	4	8	9

2	8	9	0	7
0	7	5	8	4
6	3	2	4	8
6	1	3	2	9
5	0	7	9	1
0	1	5	6	9



EGZERSİZ 45


Aşağıdaki sayıları tersten yani en sondaki başta olacak şekilde altlarındaki boşluklara yazınız.

3480126834
7904562379
4316804537
8531209644
3861209548
3580965321
5684327809
3246895316
5094376128
6542809981




EGZERSİZ 46

Aşağıdaki tabloda yer alan şekillere dikkatlice 60 saniye baktıktan sonra sayfayı çeviriniz.



Bir önceki sayfada yer alan şekillerden hangisi bu sayfada değişikliğe uğramıştır?



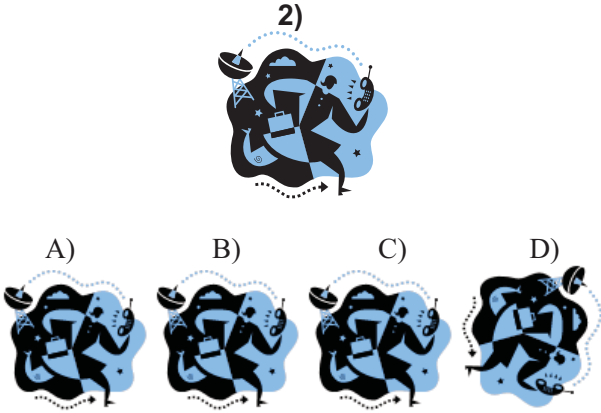

EGZERSİZ 47

Aşağıdaki fotoğrafla ilgili hayal kurunuz. Bu hayalinizi en az 15 cümle ifade ediniz.



EGZERSİZ 48

Aşağıdaki resimlerden üstteki resimden farklı olanı bulunuz.




EGZERSİZ 49

Baştaki resimden farklı olanları bulunuz.

		A	B	C
1				
		A	B	C
2				
		A	B	C
3				


EGZERSİZ 50

Aşağıda verilen şekillerden farklı olanı bulunuz.




EGZERSİZ 51

Aşağıdaki şekillerden farklı olanları bulunuz.



EGZERSİZ 52









































Aşağıdaki şekillerden farklı olanları bulunuz.



EGZERSİZ 54

Aşağıda verilen Mantık Labirentini oynayınız.

(Oyunun Kuralı: İlk kutudaki sembollerden birini aşağı yukarı, sağa sola takip ederek çapraz gitmeden en kısa şekilde sona ulaşın.)

Başla  	 	 	 	 
 	 	 	 	 
 	 	 	 	 
 	 	 	 	  Bitir

EGZERSİZ 55

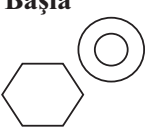


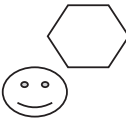


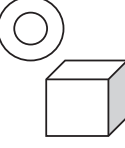

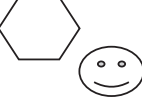
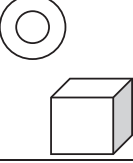
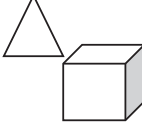
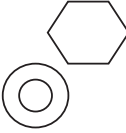

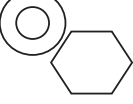
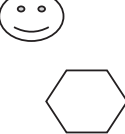


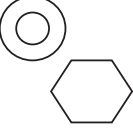


Aşağıda verilen Artı ve Eksi oyununu oynayınız.

$8 + \text{veya} - 3 + \text{veya} - 2 = 7$
$18 + \text{veya} - 6 + \text{veya} - 7 = 5$
$24 + \text{veya} - 7 + \text{veya} - 12 = 19$
$9 + \text{veya} - 8 + \text{veya} - 17 = 18$
$30 + \text{veya} - 13 + \text{veya} - 5 = 22$
$14 + \text{veya} - 25 + \text{veya} - 18 = 21$
$22 + \text{veya} - 11 + \text{veya} - 3 = 8$
$9 + \text{veya} - 36 + \text{veya} - 24 = 21$
$15 + \text{veya} - 24 + \text{veya} - 13 = 26$
$51 + \text{veya} - 33 + \text{veya} - 12 = 30$
$76 + \text{veya} - 45 + \text{veya} - 28 = 59$
$19 + \text{veya} - 20 + \text{veya} - 17 = 56$
$66 + \text{veya} - 37 + \text{veya} - 23 = 52$
$78 + \text{veya} - 19 + \text{veya} - 38 = 21$
$84 + \text{veya} - 6 + \text{veya} - 70 = 20$
$41 + \text{veya} - 18 + \text{veya} - 26 = 33$
$55 + \text{veya} - 44 + \text{veya} - 88 = 11$
$37 + \text{veya} - 24 + \text{veya} - 48 = 61$
$75 + \text{veya} - 35 + \text{veya} - 36 = 4$




EGZERSİZ 56

Aşağıda verilen Mantık Labirentini oynayınız.
(Oyunun Kuralı: İlk kutudaki sembollerden birini aşağı yukarı, sağa sola takip ederek çapraz gitmeden en kısa şekilde sona ulaşın.)

Başla 			
			
			
			
			
			Bitir

EGZERSİZ 57

Aşağıdaki toplam kaç tane çark vardır?



EGZERSİZ 58

Aşağıdaki şekillerden üsttekinden farklı olanı bulunuz.

1)



A)



B)



C)



D)



2)



A)



B)



C)




D)




EGZERSİZ 59

Aşağıdaki şekillerden üsttekinden farklı olanı bulunuz.





EGZERSİZ 60

Aşağıdaki şekillerden farklı olanları bulunuz.



EGZERSİZ 62

Aşağıda verilen bölümler ortadaki çizgiden katlandığında üst üste gelecek aynı şekillerden kaç tane olduğunu bulunuz.



EGZERSİZ 63

Aşağıda verilen harfler arasında “m” harfini daire içine alarak “m” harfinden kaç tane olduğunu bulunuz.

m ö ı y h n s f y k v d f

p k c v r y d v k k m v f

k y v o ı k v v s ö ı v m

b p y f y y p f o y o m d b v

d ı k y f z u c m m ö ı y h

n s f y k v d f p k c v r y

d v k k m v f k y v o ı k v

v s ö ı v m b p y f y y p f

o y o m d b v d ı k y f z u



EGZERSİZ 64

Aşağıdaki tabloda 79'dan büyük kaç tane sayı olduğunu bulunuz.

48		80	
	34	87	
79		49	
69		79	
	88	59	
78		97	
	9		
	78		
27		65	
	84	91	
	90	85	
36		55	79
44			80



EGZERSİZ 65

Aşağıdaki tabloda 79'dan küçük kaç tane sayı olduğunu bulunuz.

48		80
34	87	
79	49	
69	79	
88	59	
78	97	9
	78	
27		65
84	91	
90		85
36	55	79
44		80



EGZERSİZ 66


Aşağıdaki tabloda 54'ten büyük kaç tane sayı olduğunu bulunuz.

55		62		46
		90		
17	21		38	54
		77		
60	58		61	74
		62	54	
45	69	82	76	23
9		3		22
		26		
	8		50	
		54	55	
80		99		38
		11		
	57		19	
	91	60		



EGZERSİZ 67

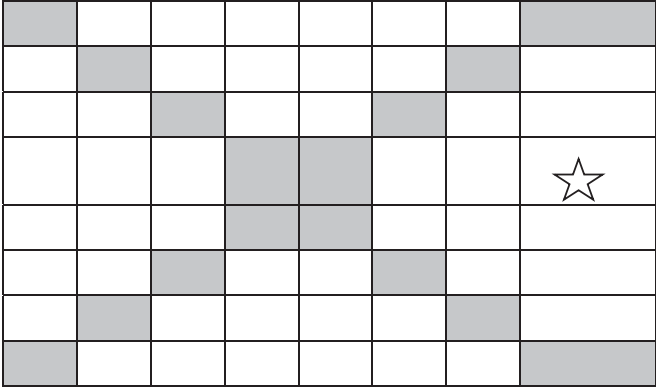
Aşağıdaki insan fotoğraflarından hangi ikisi bir yönüyle diğerlerinden farklıdır?



EGZERSİZ 68

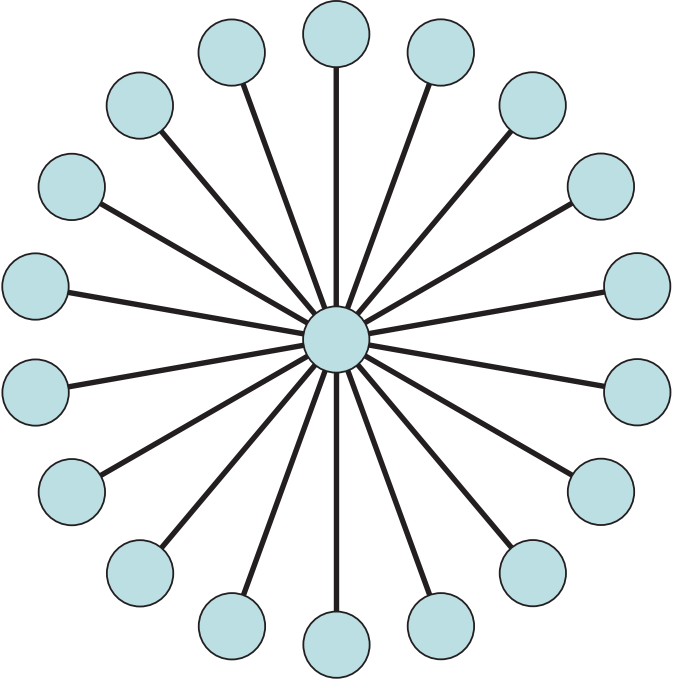
Aşağıdaki boş karelere 8 adet yıldız yatay, dikey veya çapraz olarak aynı hizada olmamak şartıyla yerleştiriniz.

(Siyah taralı alanlara yıldız yerleştiremezsiniz, örnek olarak verilen yıldızın yerini değiştiremezsiniz.)



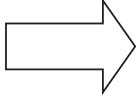
EGZERSİZ 69

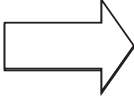
Aşağıdaki şekilde gördüğünüz dairelere 1'den 19'a kadar olan sayıları öyle bir yerleştirin ki aynı hizadaki dairelerin toplamı hep 30 sonucunu versin.

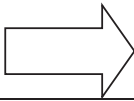


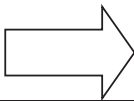
EGZERSİZ 70

Soldaki kutular öyle bir şekilde birbirlerine uyuyorlar ki sayıları sağdaki kutuyu yapmalarına yardımcı oluyor. Soldaki iki sırada bulunan sayıların sağdaki sayıları nasıl oluşturduğunu bulup eksik sayıları tamamlayınız.

1	3	5	7	9		3,7,11,15,?..
2	4	6	8	10		

25	20	15	10	5		24,18,12,6,?..
1	2	3	4	5		

4	5	10	12	7		3,4,3,3,?..
12	20	30	36	49		

50	40	30	20	10		100,160, 180,160?..
2	4	6	8	10		



EGZERSİZ 71

Aşağıdaki tabloda her kutudaki sayıları belirleyen belli bir ilişki olduğuna göre eksik sayıları bulunuz.

9	6	2	1
15	12	8	7
21	18	14	?
27	24	20	19
?	30	?	?

EGZERSİZ 72

Aşağıdaki tabloda yer alan kelime sıralamasında hangisi diğerlerinden farklıdır?


AĞAÇ	KAĞIT	KİTAP
MISIR	UN	EKMEK
DOMATES	SALÇA	SOS
SU	GÖL	DENİZ
ET	KIYMA	KÖFTE
SÜT	YOĞURT	AYRAN



EGZERSİZ 74


Aşağıdaki kelimeleri harflerin şekillerini de dikkate alarak aşağıdaki kutucuklara yerleştiriniz.

- | | |
|------------|-------------|
| 1) ahmet | 4) trabzon |
| 2) bereket | 5) portakal |
| 3) kıyamet | 6) yaramaz |




EGZERSİZ 75

Aşağıdaki şekillerden hangilerinin benzeri vardır?




EGZERSİZ 76


Aşağıdaki şekillerden hangilerinin benzeri yoktur?



EGZERSİZ 77
Aşağıda resimlere 60 saniye baktıktan
sonra diğer sayfaya geçiniz.



Aşağıda resimlerden hangisi bir önceki sayfada yer almamaktadır?



EGZERSİZ 78

Aşağıda karşılıklı olarak yazılan sözcüklerden ve söz gruplarından aynı olanların arasına “A”, farklı olanların arasına “F” yazınız.

vardır.....yoktur

yoktur.....değildir

kullanılmıştır.....kullanılmıştır

söylenebilir.....söylenemez

verilmiştir.....verilmiştir

ulaşılmaz.....ulaşılabilir

ifade eder.....ifade eder

hangisidir.....hangisidir

en büyüktür.....en küçüktür

hangisi yanlıştır.....hangisi yanlıştır

hangisi doğrudur.....hangisi doğrudur

hangisi vardır.....hangisi yoktur

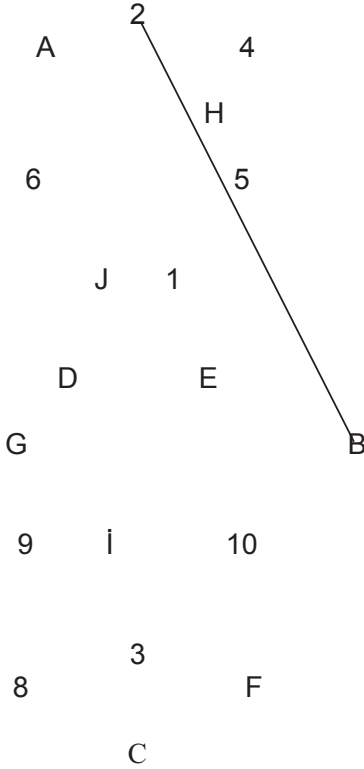
vermemektedir.....vermemektedir

yer almaz.....yer alır



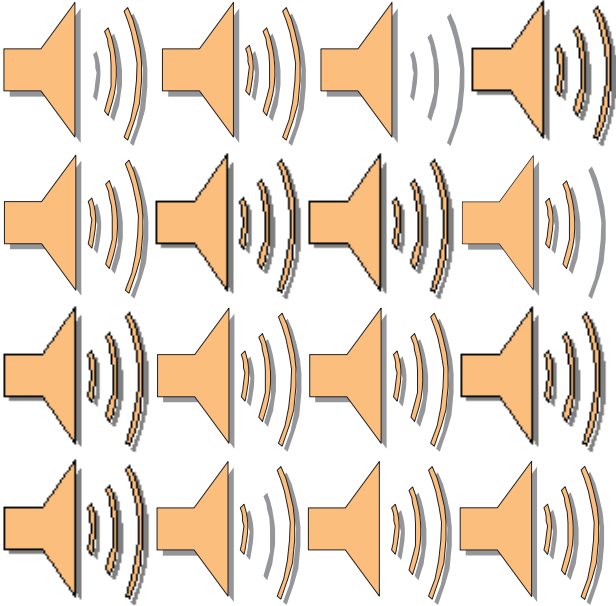
EGZERSİZ 79

Aşağıda verilen harfler ile rakamları, harf ve rakam sırasına göre örnekteki gibi sırasıyla birleştiriniz.



EGZERSİZ 80

Aşağıda verilen şekillerden üstteki şekillerden farklı olanları şekli bulunuz.




EGZERSİZ 81

Aşağıda verilen şekillerden üstteki şekillerden farklı olanları şekli bulunuz.



EGZERSİZ 82

Aşağıda verilen şekillerden üstteki şekillerden farklı olanları şekli bulunuz.



EGZERSİZ 83

Aşağıda verilen şekillerden üstteki şekillerden farklı olanları şekli bulunuz.



EGZERSİZ 85

Aşağıda verilen şekillerden farklı olanı bulunuz.



EGZERSİZ 86

Aşağıda karışık olarak verilen sayıları 1'den 20'ye kadar sırasıyla işaretleyiniz.

11

20

15

12

14

3

5

16

4

18

17

8

1

13

7

6

19

2

10

9



EGZERSİZ 87

Aşağıda yer alan sözcüklerin şifreleri karışık olarak verilmiştir. Sözcüklerin şifrelerini bularak eşleştiriniz.

KÜF	825
SAÇ	928
KAÇ	729
MAÇ	625
ÇAM	829
KAF	526
SAF	725
KAS	278
FAS	728
AKS	719
CAM	326
KEM	746
SAC	823
SEÇ	845
KES	748
ÇEK	547
FES	948
KÜS	718
SES	848



EGZERSİZ 88

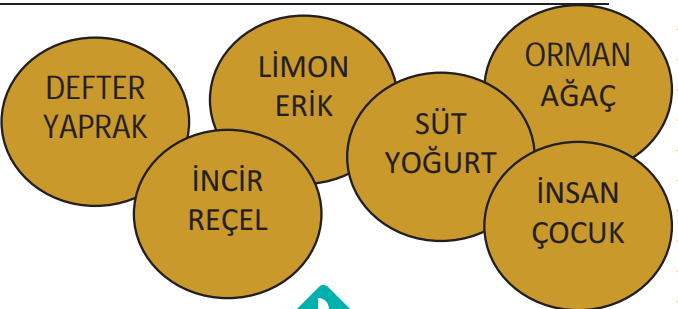
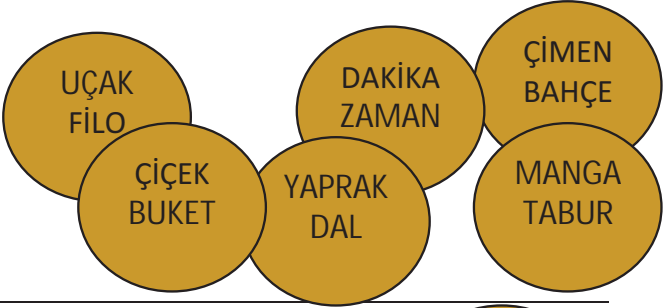
Aşağıdaki tabloda yer alan kelime, harf ya da rakamlar belli bir kurala göre sıralanmışlardır. Buna göre kurala uymayan kelime, harf ya da rakamı belirleyiniz.

A	Ç	F	G	J
KASA	MASA	YASA	TASA	KISA
AYNA	OTUR	BANA	SARI	AYŞE
TEL	ELLİ	GÜL	BİR	NAR
MARDİN	KOZAN	MANİSA	İZMİR	NİĞDE
15	19	22	27	31
95	79	63	46	31
P	R	Ş	S	T
M	A	E	İ	Ö
4	8	18	32	64
HASAN	BURAK	EMİNE	BUĞRA	METİN
ÇATAL	BIÇAK	MAKAS	KAŞIK	TABAK
KAMYON	GEMİ	BİSİKLET	TIR	ARABA
İSİM	SIFAT	ZAMİR	EDAT	KARE
5	11	16	23	29
3	6	9	13	15
V	C	N	K	A
81	72	63	54	46
MOR	SARI	MAVİ	BEYAZ	KAPI
ERİK	ELMA	KAYSI	NANE	ARMUT
BÜYÜK	KÜÇÜK	İRİ	KALIN	MİNİK
4	10	15	20	25
A	Z	C	D	E



EGZERSİZ 89

Aşağıda her grupta verilen dairelerde yer alan kelimeler arasında ilişkilere göre değerlendirilirse hangi ikisi aynı olur?



EGZERSİZ 90

Aşağıdaki tabloda kaç tane çift sayı olduğunu bulunuz.

80		61		45	
		92			
17	21		38	54	77
	60		58		61
		74			
		62	54		
45			69		82
		76	23		
9			3		22
		26			
	8		50		
		54	55		
80			99		38
				11	
57		19			91
		60			



EGZERSİZ 91






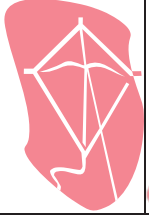










Aşağıda verilmiş olan “pdy” kutucuklarından kaç tane olduğunu bulunuz.

gyd	pdg	dpy	pby	pdy
yad	pdg	dpy	pyd	pyg
pby	bdy	pdy	qdy	dpy
qdy	pdy	pby	pdy	qdy
pdy	pby	pdy	bdy	pdy
pqy	pdy	qdy	dpy	pyd
pdy	dpy	pdy	qdy	pqy
pby	pby	pdy	qdy	qdy
bdy	pyd	pdy	pdy	pby
pdy	dpy	dpy	pyd	dpy
pqy	bdy	pby	dpy	bdy
pdg	dpy	pyd	pby	ydp
pby	gyd	pqy	pyd	gyd
gpd	bdy	dpy	pdy	ydp
dpy	gdy	qdy	gyd	pdy



EGZERSİZ 92

Aşağıda resimlerden hangisi diğerlerinden farklıdır?

1				
	A	B	C	D
2				
	A	B	C	D
3				
	A	B	C	D
4				
	A	B	C	D

EGZERSİZ 93

Aşağıda resimlerden hangilerinin eşi bulunmamaktadır?



EGZERSİZ 94

Aşağıdaki sayılardan herhangi birini seçerek sayfada kaç tane olduğunu bulunuz.

99	54	66	55
76	34	84	38
33	67	29	64
82	11	45	73
67	73	36	62
12	96	44	49
54	50	88	39
29	45	55	49
48	14	22	34
61	12	14	44
84	11	14	11
50	34	88	34
38	49	36	62
17	36	22	34
31	44	36	36
73	88	15	44
44	11	45	88
88	55	36	11
11	22	11	34
55	11	50	44
22	44	45	50
44	22	62	55
15	11	49	36
45	88	34	27
96	32	77	80



EGZERSİZ 95

Aşağıda resimlerden hangisi diğerlerinden farklıdır?

1				
	A	B	C	D
2				
	A	B	C	D
3				
	A	B	C	D
4				
	A	B	C	D
5				
	A	B	C	D

EGZERSİZ 96

Aşağıdaki bugün kendinizi hissedebileceğiniz durumlar verilmiştir. Bu olasılıklara 30 saniye baktıktan sonra bugün kendinizi hissedebileceğiniz durumları aşağıdaki kutucuklardan bulup işaretleyiniz.




BEZMİŞ	KORKMUŞ	YALNIZ	HEYECANLI
DEPRESYONDA	KEDERLİ	SIKINTILI	BAŞARILI
ÜZGÜN	ÖFKELİ	NEŞELİ	MUTLU
HÜZÜNLÜ	UYKULU	KIZGIN	AŞIK
KEYİFLİ	KAYGILI	SARHOŞ	HASTA



EGZERSİZ 97

Aşağıdaki tablonun içinde yer alan karelerden içinde aynı şekil bulunanları eşleştiriniz.



EGZERSİZ 98

Aşağıda kaç farklı resim bulunmaktadır?



EGZERSİZ 99

Aşağıdaki çocuk fotoğraflarına 60 saniye süreyle baktıktan sonra diğer sayfaya geçiniz.



ALİ



AYLİN



NAZLI



BUKET



REYHAN



CEMİLE



NESRİN



NİLGÜN



TUĞBA

Aşağıdaki fotoğraflardaki çocukların adlarını alttaki boşluklara yazınız.



.....



.....



.....



.....



.....



.....



.....



















.....



.....

EGZERSİZ 100

Baştaki resimden farklı olanları bulunuz.

1				
	A	B	C	D
2				
	A	B	C	D
3				
	A	B	C	D
4				
	A	B	C	D

SORULARIN CEVAPLARINA
www.egebilimkoleji.com
adresinden ulaşabilirsiniz.



ÇOCUKLARA DÜRÜSTLÜĞÜ ÖĞRETMENİN 8 YOLU!

1. Çocuğunuzun aklından geçenleri sizinle paylaşmasını isteyin ve sohbetlerinizde tepki vermeden, eleştirmeden sonuna kadar dinleyin ki, size güvenebilsin.
2. Çocuğunuzun rahatlıkla yalan söyleyebileceği durumlara girmemeye özen gösterin. Duvar boyayan çocuğa sen mi boyadın diye üzerine gitmeyin.
3. Çocuğunuza "Doğruyu söylersen kızmayacağım" dediğiniz halde, doğruyu söylediğinde tam tersi tepkiler vermeyin.
4. 3-6 yaş arası dönemde çocuğün yalan söyleyerek şaka yaptım dediği durumlarda ona yalan ile şa- kanın ayırdığını sakince açıklayın.
5. Çocuğunuzun doğru sözlü davranışlarını sözleriyle ödüllendirin.
6. Çocuğunuzun dürüst olmadığını farkettiğinizi anlar, doğruluğu öğretmek için harika zamanlardır. Bu yüzden bu hatalar faydalı hatalardır.
7. "Elma ağaçtan uzağa düşemez" gerçeğini asla unutmayın. Çocuğunuza karşı her durumda dürüst olun. Bir dk. durup çıkıcam dediğiniz mağazadan 1 saatte çıkmayın.
8. Doğruluktan uzaklaşmanın nelere malolacağını, sohbetlerinizde öyküler ve atasözleri ile vurgulayın.



ÇOCUĞUNUZ İÇİN HER GÜN YAPMANIZ GEREKEN 10 ŞEY;

1. Ona sarılın.
2. "Anlayamadım canım... Biraz daha açıklar mısın" diye sorun. Bu soru onun kendini açıklamasına fırsat verecektir.
3. "Seni seviyorum." deyin.
4. Haftada en az 2 defa kitap okuyun.
5. Boyu hizasına eğilin. Gözlerine bakın. Ve onu anlamaya çalışın.
6. Sağlıklı beslenmeyi öğretin.
7. Onunla konuşun. Havadan sudan... Ondan bundan...
8. Haftada en az 2 defa ona 15 dk. özel oyun zamanı ayırın.
9. Ona özen gösterin. Tabağını süsleyin, yatağına küçük resimli notlar bırakın.
10. Sabırlı olun. Kabul çizgisini aşağı çekin.

